

CLASS : 12th (Sr. Secondary)

Code No. 213

Series : SS/Annual-2023

Roll No.

--	--	--	--	--	--	--	--	--	--

SET : A

भूगोल

MAP

GEOGRAPHY

[हिन्दी एवं अंग्रेजी माध्यम]

[Hindi and English Medium]

ACADEMIC/OPEN

(Only for Fresh/Re-appear/Improvement/Additional Candidates)

समय : 3 घण्टे]

[पूर्णांक : 60

Time allowed : 3 hours]

[Maximum Marks : 60

- कृपया जाँच कर लें कि इस प्रश्न-पत्र में मुद्रित पृष्ठ 7 तथा प्रश्न 24 हैं।
Please make sure that the printed pages in this question paper are 7 in number and it contains 24 questions.



- प्रश्न-पत्र में दाहिने हाथ की ओर दिये गये कोड नम्बर तथा सेट को छात्र उत्तर-पुस्तिका के मुख्य-पृष्ठ पर लिखें।
The **Code No.** and **Set** on the right side of the question paper should be written by the candidate on the front page of the answer-book.
- कृपया प्रश्न का उत्तर लिखना शुरू करने से पहले, प्रश्न का क्रमांक अवश्य लिखें।
Before beginning to answer a question, its Serial Number must be written.
- उत्तर-पुस्तिका के बीच में खाली पन्ना/पन्ने न छोड़ें।
Don't leave blank page/pages in your answer-book.
- उत्तर-पुस्तिका के अतिरिक्त कोई अन्य शीट नहीं मिलेगी। अतः आवश्यकतानुसार ही लिखें और लिखा उत्तर न काटें।
Except answer-book, no extra sheet will be given. Write to the point and do not strike the written answer.

213/(Set : A)

P. T. O.

(2)

213/(Set : A)

- परीक्षार्थी अपना रोल नं० प्रश्न-पत्र पर अवश्य लिखें। रोल नं० के अतिरिक्त प्रश्न-पत्र पर अन्य कुछ भी न लिखें और वैकल्पिक प्रश्नों के उत्तरों पर किसी प्रकार का निशान न लगाएँ।

Candidates must write their Roll No. on the question paper. Except Roll No. do not write anything on question paper and don't make any mark on answers of objective type questions.

- कृपया प्रश्नों के उत्तर देने से पूर्व यह सुनिश्चित कर लें कि प्रश्न-पत्र पूर्ण व सही है, परीक्षा के उपरान्त इस सम्बन्ध में कोई भी दावा स्वीकार नहीं किया जायेगा।

*Before answering the questions, ensure that you have been supplied the correct and complete question paper, **no claim in this regard, will be entertained after examination.***

सामान्य निर्देश :

(i) सभी प्रश्न अनिवार्य हैं।



(ii) प्रत्येक प्रश्न के अंक उसके सामने दर्शाए गए हैं।

(iii) प्रश्नों के उत्तर उनके अंकानुसार दें।

(iv) प्रश्न संख्या 24 विश्व के मानचित्र को भरने से संबंधित है।

(v) विश्व के मानचित्र को भरकर अपनी उत्तर-पुस्तिका के बीच मजबूती से बाँधिए।

(vi) मानचित्र पर अपनी उत्तर-पुस्तिका का क्रमांक अवश्य लिखें।

General Instructions :

(i) **All questions are compulsory.**

(ii) Marks for each question are indicated against it.

(iii) Answer the questions according to their marks.

213/(Set : A)

- (iv) Question No. 24 is related to filling the outline map of the **World**.
- (v) After filling the map of the World it should be securely tied in the middle of the answer-book.
- (vi) You **must** write your Answer-book Serial No. on the map.

1. नीचे दिए गए महाद्वीपों में से किस महाद्वीप की जनसंख्या वृद्धि दर सर्वाधिक है ? 1

- (A) अफ्रीका (B) दक्षिण अमेरिका
(C) एशिया (D) उत्तरी अमेरिका

Which one of the following Continents has the highest growth of population ?

- (A) Africa (B) South America
(C) Asia (D) North America



2. निम्नलिखित में से कौन-सी रोपण फसल **नहीं** है ? 1

- (A) कहवा (B) गन्ना
(C) गेहूँ (D) रबड़

Which one of the following is **not** a plantation crop ?

- (A) Coffee (B) Sugarcane
(C) Wheat (D) Rubber

3. ऊर्जा के इस रूप का निर्माण उद्योगों द्वारा उपयोग **नहीं** किया जाता है : 1

- (A) प्राकृतिक गैस (B) कोयला
(C) पानी (D) पेट्रोलियम

(4)

213/(Set : A)

This form of energy is **not** utilized by manufacturing industries :

- (A) Natural gas (B) Coal
(C) Water (D) Petroleum

4. निम्नलिखित में से कौन-सा तृतीयक व्यवसाय है ?

1

- (A) खेती (B) व्यापार
(C) बुनाई (D) शिकार

Which one of the following is a tertiary activity ?

- (A) Farming (B) Trading
(C) Weaving (D) Hunting



5. 2001 की जनगणना के अनुसार भारत की जनसंख्या है :

1

- (A) 1028 मिलियन (B) 3128 मिलियन
(C) 3287 मिलियन (D) 20 मिलियन

India's population as per 2001 census is :

- (A) 1028 million (B) 3128 million
(C) 3287 million (D) 20 million

6. मानव भूगोल से आपका क्या अभिप्राय है ?

1

Define Human Geography.

213/(Set : A)

7. एशिया के कौन-से देशों में लिंग-अनुपात कम है ? 1
Which countries of Asia has a lower sex-ratio ?
8. कौन-सा देश घटता हुआ जनसंख्या पिरामिड दिखाता है ? 1
Which country shows a declining population pyramid ?
9. भारत में उच्च घनत्व वाली जनसंख्या का सबसे बड़ा क्षेत्र कौन-सा है ? 1
Name the longest tract of high density population in India.
10. जनसंख्या विस्फोट से आपका क्या अभिप्राय है ? 1
Define Population Explosion.
11. नियमित रूप से टेपरिंग पिरामिड वाले आयु-लिंग पिरामिड से जनसंख्या की कौन-सी विशेषताएँ प्रकट होती हैं ? 2
What population characteristics are revealed by an age-sex pyramid having a regularly tapering pyramid ?
12. बिखरी अथवा छितरी हुई बस्तियाँ क्या होती हैं ? 2
Define Dispersed or Scattered Settlement.
13. भारत में जनसंख्या वृद्धि की उच्च दर के लिए कौन-से कारक उत्तरदायी हैं ? 2
What factors are responsible for a high rate of population growth in India ?
14. पर्यावरण प्रदूषण से क्या अभिप्राय है ? 2
Define Environmental Pollution.
15. प्रजनन दर और मृत्युदर की व्याख्या कीजिए। 3
Explain the terms Fertility and Mortality.

16. 'प्रशासनिक बस्तियों' और 'सांस्कृतिक बस्तियों' के बीच अन्तर स्पष्ट कीजिए। 3
Distinguish between 'administrative settlements' and 'cultural settlements'.
17. भारत में जनसंख्या प्रवास से होने वाले आर्थिक परिणामों की व्याख्या कीजिए। 3
Explain the economic consequences of migration of population in India.
18. 'वायु प्रदूषण' तथा 'वायु प्रदूषक' में अन्तर स्पष्ट कीजिए। 3
Distinguish between 'air pollution' and 'air pollutants'.
19. स्वेज़ नहर पर एक संक्षिप्त टिप्पणी लिखिए। 5
Write a short note on Suez Canal.
20. कार्यों के आधार पर नगरों का वर्गीकरण कीजिए। उदाहरणों के साथ समझाइए। 5
Classify towns on the basis of the functions. Illustrate with examples.
21. भारत में मैंगनीज के वितरण का वर्णन कीजिए। 5
Describe the distribution of Manganese in India.
22. उद्योगों की अवस्थिति को नियंत्रित करने वाले पाँच कारकों का उल्लेख कीजिए। 5
Mention **five** factors that control the location of Industries.
23. भारतीय सड़कों का उनके महत्त्व के अनुसार वर्गीकरण कीजिए। 5
Give the classification of Indian Roads according to their importance.

(7)

213/(Set : A)

1 × 5 = 5

24. दिए गए विश्व के रेखा-मानचित्र पर निम्नलिखित को अंकित कीजिए :

Show the following on the given outline map of the **World** :

(i) टोकियो

Tokyo

(ii) सिडनी

Sydney

(iii) भिलाई

Bhilai

(iv) खेतड़ी

Khetri

(v) कोलकाता

Kolkata



213/(Set : A)

CLASS : 12th (Sr. Secondary)

Code No. 213

Series : SS/Annual-2023

Roll No.

--	--	--	--	--	--	--	--	--	--

SET : B

भूगोल

MAP

GEOGRAPHY

[हिन्दी एवं अंग्रेजी माध्यम]

[Hindi and English Medium]

ACADEMIC/OPEN

(Only for Fresh/Re-appear/Improvement/Additional Candidates)

समय : 3 घण्टे]

[पूर्णांक : 60

Time allowed : 3 hours]

[Maximum Marks : 60

- कृपया जाँच कर लें कि इस प्रश्न-पत्र में मुद्रित पृष्ठ 7 तथा प्रश्न 24 हैं।
Please make sure that the printed pages in this question paper are 7 in number and it contains 24 questions.



- प्रश्न-पत्र में दाहिने हाथ की ओर दिये गये कोड नम्बर तथा सेट को छात्र उत्तर-पुस्तिका के मुख्य-पृष्ठ पर लिखें।
The **Code No.** and **Set** on the right side of the question paper should be written by the candidate on the front page of the answer-book.
- कृपया प्रश्न का उत्तर लिखना शुरू करने से पहले, प्रश्न का क्रमांक अवश्य लिखें।
Before beginning to answer a question, its Serial Number must be written.
- उत्तर-पुस्तिका के बीच में खाली पन्ना/पन्ने न छोड़ें।
Don't leave blank page/pages in your answer-book.
- उत्तर-पुस्तिका के अतिरिक्त कोई अन्य शीट नहीं मिलेगी। अतः आवश्यकतानुसार ही लिखें और लिखा उत्तर न काटें।
Except answer-book, no extra sheet will be given. Write to the point and do not strike the written answer.

213/(Set : B)

P. T. O.

(2)

213/(Set : B)

- परीक्षार्थी अपना रोल नं० प्रश्न-पत्र पर अवश्य लिखें। रोल नं० के अतिरिक्त प्रश्न-पत्र पर अन्य कुछ भी न लिखें और वैकल्पिक प्रश्नों के उत्तरों पर किसी प्रकार का निशान न लगाएँ।

Candidates must write their Roll No. on the question paper. Except Roll No. do not write anything on question paper and don't make any mark on answers of objective type questions.

- कृपया प्रश्नों के उत्तर देने से पूर्व यह सुनिश्चित कर लें कि प्रश्न-पत्र पूर्ण व सही है, परीक्षा के उपरान्त इस सम्बन्ध में कोई भी दावा स्वीकार नहीं किया जायेगा।

*Before answering the questions, ensure that you have been supplied the correct and complete question paper, **no claim in this regard, will be entertained after examination.***

सामान्य निर्देश :

(i) सभी प्रश्न अनिवार्य हैं।



(ii) प्रत्येक प्रश्न के अंक उसके सामने दर्शाए गए हैं।

(iii) प्रश्नों के उत्तर उनके अंकानुसार दें।

(iv) प्रश्न संख्या 24 विश्व के मानचित्र को भरने से संबंधित है।

(v) विश्व के मानचित्र को भरकर अपनी उत्तर-पुस्तिका के बीच मजबूती से बाँधिए।

(vi) मानचित्र पर अपनी उत्तर-पुस्तिका का क्रमांक अवश्य लिखें।

General Instructions :

(i) **All questions are compulsory.**

(ii) Marks for each question are indicated against it.

(iii) Answer the questions according to their marks.

213/(Set : B)

- (iv) Question No. **24** is related to filling the outline map of the **World**.
- (v) After filling the map of the World it should be securely tied in the middle of the answer-book.
- (vi) You **must** write your Answer-book Serial No. on the map.

1. इनमें से कौन-सा तत्व पर्यावरण का हिस्सा **नहीं** है ? 1

- (A) जलवायु (B) धरातल
(C) कृषि (D) पानी

Which element is **not** a part of environment ?

- (A) Climate (B) Relief
(C) Agriculture (D) Water



2. निम्नलिखित में से किस देश में सहकारी खेती सबसे सफल प्रयोग थी ? 1

- (A) रूस (B) डेनमार्क
(C) भारत (D) नीदरलैंड

In which one of the following countries Co-operative Farming was the most successful experiment ?

- (A) Russia (B) Denmark
(C) India (D) Netherland

3. इस प्रकार का श्रमिक कुटीर उद्योग का भाग **नहीं** होता ? 1

- (A) बढई (B) बुनकर
(C) दुकानदार (D) भेड़-पालक

(4)

213/(Set : B)

This type of worker is **not** the part of cottage industry ?

- (A) Carpenter (B) Weaver
(C) Shopkeeper (D) Sheepkeeper

4. निम्नलिखित में से कौन-सी एक गतिविधि द्वितीयक क्षेत्र की गतिविधि **नहीं** है ? 1

- (A) लोहा गलाना (B) वस्त्र बनाना
(C) मछली पकड़ना (D) टोकरी बनाना

Which one of the following activities is **not** a secondary sector activity ?

- (A) Iron smelting (B) Making garments
(C) Catching fish (D) Basket weaving



5. भारत में निम्नलिखित में से किस राज्य का जनसंख्या घनत्व सबसे अधिक है ? 1

- (A) पश्चिम बंगाल (B) केरल
(C) उत्तर प्रदेश (D) पंजाब


Which one of the following States has the highest density of population in India ?


- (A) West Bengal (B) Kerala
(C) Uttar Pradesh (D) Punjab

6. आर्थिक भूगोल से आपका क्या अभिप्राय है ? 1

Define Economic Geography.

213/(Set : B)

7. उन नदी घाटियों के नाम लिखिए जो प्रारम्भिक काल में घनी आबादी वाली थी। 1
Name the river valleys which were densely populated in the early ages.
8. आयु संरचना क्या है ? 1
What is age structure ?
9. गाँवों में रहने वाली भारतीय जनसंख्या का अनुपात बताइए। 1
What proportion of Indian population living in the villages ?
10. जनसंख्या घनत्व से आपका क्या अभिप्राय है ? 1
Define Density of Population.
11. महिलाओं को ग्रामीण क्षेत्रों से शहरी क्षेत्रों में प्रवास करने के लिए कौन-सी समस्याएँ हतोत्साहित करती हैं ? 2
What problems discourage women to migrate from rural areas to urban areas ?
- 
12. वृत्ताकार या वर्गाकार बस्तियाँ क्या होती हैं ? 2
Define Circular or Square Settlements.
13. देश के चार सबसे अधिक आबादी वाले राज्यों के नाम बताइए। 2
Name **four** most populous States of the Country.
14. मलिन बस्तियों की प्रमुख समस्याएँ कौन-सी हैं ? 2
What are the main problems of Slums areas ?
15. विश्व में सर्वाधिक जनसंख्या के घनत्व वाले **तीन** प्रमुख क्षेत्रों के नाम बताइए। 3
Name **three** major areas of high population density in the world.

16. 'सघन' और 'परिक्षिप्त' (बिखरी हुई) बस्तियों में अन्तर स्पष्ट कीजिए। 3
Distinguish between 'compact' and 'dispersed' (Scattered) settlements.
17. प्रवास शब्द को परिभाषित कीजिए। भारत में लोगों के प्रवास के लिए उत्तरदायी **तीन** कारक बताइए। 3
Define the term Migration. Explain **three** factors that are responsible for migration in India.
18. भारत में शहरी अपशिष्ट निपटान से जुड़ी प्रमुख समस्याओं का उल्लेख कीजिए। 3
Mention major problems associated with urban waste disposal in India.
19. पनामा नहर पर एक संक्षिप्त टिप्पणी लिखिए। 5
Write a short note on Panama Canal.
20. विभिन्न प्रकार की ग्रामीण बस्तियों के प्रतिरूपों का वर्णन कीजिए। 5
Describe the various types of rural settlement patterns.
- 
21. चावल की खेती के विकास के लिए अनुकूल भौगोलिक परिस्थितियों का संक्षिप्त विवरण दीजिए। भारत में चावल के उत्पादन तथा वितरण पर प्रकाश डालिए। 5
Give a brief account of favourable geographical conditions for the growth of Rice cultivation. Describe its production and distribution in India.
22. भारत में सूती वस्त्र उद्योग के वितरण का संक्षिप्त विवरण दीजिए। 5
Give a brief account of the distribution of Cotton Textile Industry in India.
23. देश के प्रमुख राष्ट्रीय राजमार्गों का उल्लेख कीजिए। 5
Mention the important National Highways of the Country.

(7)

213/(Set : B)

24. दिए गए विश्व के रेखा-मानचित्र पर निम्नलिखित को अंकित कीजिए :

1 × 5 = 5

Show the following on the given outline map of the **World** :

(i) सैन फ्रांसिस्को

San Francisco

(ii) पर्थ

Perth

(iii) राउरकेला

Rourkela

(iv) अलवर

Alwar

(v) मुम्बई

Mumbai



213/(Set : B)

CLASS : 12th (Sr. Secondary)

Code No. 213

Series : SS/Annual-2023

Roll No.

--	--	--	--	--	--	--	--	--	--

SET : C

भूगोल

MAP

GEOGRAPHY

[हिन्दी एवं अंग्रेजी माध्यम]

[Hindi and English Medium]

ACADEMIC/OPEN

(Only for Fresh/Re-appear/Improvement/Additional Candidates)

समय : 3 घण्टे]

[पूर्णांक : 60

Time allowed : 3 hours]

[Maximum Marks : 60

- कृपया जाँच कर लें कि इस प्रश्न-पत्र में मुद्रित पृष्ठ 7 तथा प्रश्न 24 हैं।
Please make sure that the printed pages in this question paper are 7 in number and it contains 24 questions.



- प्रश्न-पत्र में दाहिने हाथ की ओर दिये गये कोड नम्बर तथा सेट को छात्र उत्तर-पुस्तिका के मुख्य-पृष्ठ पर लिखें।
The **Code No.** and **Set** on the right side of the question paper should be written by the candidate on the front page of the answer-book.
- कृपया प्रश्न का उत्तर लिखना शुरू करने से पहले, प्रश्न का क्रमांक अवश्य लिखें।
Before beginning to answer a question, its Serial Number must be written.
- उत्तर-पुस्तिका के बीच में खाली पन्ना/पन्ने न छोड़ें।
Don't leave blank page/pages in your answer-book.
- उत्तर-पुस्तिका के अतिरिक्त कोई अन्य शीट नहीं मिलेगी। अतः आवश्यकतानुसार ही लिखें और लिखा उत्तर न काटें।
Except answer-book, no extra sheet will be given. Write to the point and do not strike the written answer.

213/(Set : C)

P. T. O.

(2)

213/(Set : C)

- परीक्षार्थी अपना रोल नं० प्रश्न-पत्र पर अवश्य लिखें। रोल नं० के अतिरिक्त प्रश्न-पत्र पर अन्य कुछ भी न लिखें और वैकल्पिक प्रश्नों के उत्तरों पर किसी प्रकार का निशान न लगाएँ।

Candidates must write their Roll No. on the question paper. Except Roll No. do not write anything on question paper and don't make any mark on answers of objective type questions.

- कृपया प्रश्नों के उत्तर देने से पूर्व यह सुनिश्चित कर लें कि प्रश्न-पत्र पूर्ण व सही है, परीक्षा के उपरान्त इस सम्बन्ध में कोई भी दावा स्वीकार नहीं किया जायेगा।

*Before answering the questions, ensure that you have been supplied the correct and complete question paper, **no claim in this regard, will be entertained after examination.***

सामान्य निर्देश :

(i) सभी प्रश्न अनिवार्य हैं।



(ii) प्रत्येक प्रश्न के अंक उसके सामने दर्शाए गए हैं।

(iii) प्रश्नों के उत्तर उनके अंकानुसार दें।

(iv) प्रश्न संख्या 24 विश्व के मानचित्र को भरने से संबंधित है।

(v) विश्व के मानचित्र को भरकर अपनी उत्तर-पुस्तिका के बीच मजबूती से बाँधिए।

(vi) मानचित्र पर अपनी उत्तर-पुस्तिका का क्रमांक अवश्य लिखें।

General Instructions :

(i) **All questions are compulsory.**

(ii) Marks for each question are indicated against it.

(iii) Answer the questions according to their marks.

213/(Set : C)

- (iv) Question No. 24 is related to filling the outline map of the **World**.
- (v) After filling the map of the World it should be securely tied in the middle of the answer-book.
- (vi) You **must** write your Answer-book Serial No. on the map.

1. नव-नियतिवाद की अवधारणा किसने प्रस्तावित की थी ? 1

- (A) ग्रिफिथ टेलर (B) ब्लाश
(C) हंटिंग्टन (D) रिटर

Who proposed the concept of Neo-Determinism ?

- (A) Griffith Taylor (B) Blache
(C) Huntington (D) Ritter



2. फूलों का बढ़ना कहलाता है : 1

- (A) ट्रक खेती (B) कारखाने की खेती
(C) मिश्रित खेती (D) फूलों की खेती

Growing of flowers is called :

- (A) Truck farming (B) Factory farming
(C) Mixed farming (D) Floriculture

3. इनमें से कौन-सी गतिविधि दिल्ली, मुम्बई, चेन्नई और कोलकाता में सबसे अधिक रोजगार प्रदान करता है ? 1

- (A) प्राथमिक (B) चतुर्थक
(C) द्वितीय (D) सेवा

(4)

213/(Set : C)

Which one of the following sectors, provides most of the employment in Delhi, Mumbai, Chennai and Kolkata ?

- (A) Primary (B) Quaternary
(C) Secondary (D) Service

4. इनमें से कौन-सा अलौह धातु है ?

1

- (A) एल्युमिनियम (B) ताँबा
(C) जस्ता (D) लोहा

Which is the non-ferrous metal ?

- (A) Aluminium (B) Copper
(C) Zinc (D) Iron



5. 2001 की जनगणना के अनुसार, निम्नलिखित में से भारत के किस राज्य में नगरीय जनसंख्या का अनुपात सबसे अधिक है ?

1

- (A) तमिलनाडु (B) महाराष्ट्र
(C) केरल (D) गुजरात

Which one of the following States has the highest proportion of urban population in India according to 2001 Census ?

- (A) Tamil Nadu (B) Maharashtra
(C) Kerala (D) Gujarat

6. सामाजिक भूगोल से आपका क्या अभिप्राय है ?

1

Define Social Geography.

213/(Set : C)

7. उच्च जनसंख्या वृद्धि के कारण होने वाली एक समस्या का उल्लेख कीजिए। 1
State a problem caused by high growth of population.
8. कौन-सा आरेख आयु-लिंग संरचना को दर्शाता है ? 1
Which diagram shows age-sex structure ?
9. भारत की जनसंख्या वृद्धि के इतिहास में 'डेमोग्राफिक डिवाइडर' के नाम से जाना जाने वाला वर्ष कौन-सा है ? 1
The year known as 'Demographic Divider' in the history of population growth in India.
10. जनसंख्या वृद्धि से आप क्या समझते हैं ? 1
What do you mean by Population Growth ?
11. लिंगानुपात को परिभाषित कीजिए। 2
Define the term Sex-ratio.
12. 'मेगा सिटी' से आपका क्या अभिप्राय है ? 2
Define 'Mega City'.
13. युवा, वयस्क और वृद्ध आय समूहों की सीमाओं को परिभाषित कीजिए। 2
Define the limits of young, adult and old age groups.
14. भूमि क्षरण (भू-निम्नीकरण) से आपका क्या अभिप्राय है ? 2
What do you mean by land degradation ?
15. विश्व में जनसंख्या के वितरण को प्रभावित करने वाले किन्हीं **तीन** भौगोलिक कारकों को उदाहरण सहित समझाइए। 3
Explain with example any **three** geographical factors which influence the distribution of population in the World.

16. 'आयताकार अधिवास प्रतिरूप' और 'रेखीय अधिवास प्रतिरूप' के बीच अन्तर स्पष्ट कीजिए। 3
Distinguish between 'rectangular settlement pattern' and 'linear settlement pattern'.
17. भारत में प्रवास के पाँच परिणामों का वर्णन कीजिए। 3
Describe the **five** consequences of migration in India.
18. भारत से वायु प्रदूषण के किन्हीं तीन दुष्प्रभावों को उपयुक्त उदाहरण लेकर समझाइए। 3
Explain any **three** ill effects of air pollution with suitable example from India.
19. ट्रांस-साइबेरियन रेलवे तथा ट्रांस-कैनेडियन रेलवे में अन्तर स्पष्ट कीजिए। 5
Distinguish between Trans-Siberian Railway and Trans-Canadian Railway.
20. भारत में मलिन बस्तियों में रहने वालों की किन्हीं तीन प्रमुख समस्याओं का विश्लेषण कीजिए। 5
Analyse any **three** major problems of slum dwellers in India.
- 
21. चाय की खेती के विकास के लिए अनुकूल भौगोलिक परिस्थितियों का संक्षिप्त विवरण दीजिए। भारत में चाय के उत्पादन तथा वितरण का वर्णन कीजिए। 5
Give a brief account of favourable geographical conditions for the growth of Tea cultivation. Describe the production and distribution of tea in India.
22. भारत के सभी लोहा और इस्पात संयंत्र प्रायद्वीपीय पठार तक ही सीमित हैं, क्यों ? समझाइए। 5
Why are all Iron and Steel Plants of India located in peninsular plateau ? Explain.
23. "जलमार्ग यात्रियों और कार्गो (भार) यातायात दोनों के लिए परिवहन का एक महत्त्वपूर्ण साधन है।" टिप्पणी कीजिए। 5
"Waterways are an important mode of transport for both Passenger and Cargo traffic." Explain it.

(7)

213/(Set : C)

1 × 5 = 5

24. दिए गए विश्व के रेखा-मानचित्र पर निम्नलिखित को अंकित कीजिए :

Show the following on the given outline map of the **World** :

(i) पेरिस

Paris

(ii) रियो-डी-जेनेरियो

Rio-de-Janeiro

(iii) दुर्गापुर

Durgapur

(iv) उदयपुर

Udaipur

(v) कोच्चि

Kochi



213/(Set : C)

CLASS : 12th (Sr. Secondary)

Code No. 213

Series : SS/Annual-2023

Roll No.

--	--	--	--	--	--	--	--	--	--

SET : D

भूगोल

MAP

GEOGRAPHY

[हिन्दी एवं अंग्रेजी माध्यम]

[Hindi and English Medium]

ACADEMIC/OPEN

(Only for Fresh/Re-appear/Improvement/Additional Candidates)

समय : 3 घण्टे]

[पूर्णांक : 60

Time allowed : 3 hours]

[Maximum Marks : 60

- कृपया जाँच कर लें कि इस प्रश्न-पत्र में मुद्रित पृष्ठ 7 तथा प्रश्न 24 हैं।

Please make sure that the printed pages in this question paper are 7 in number and it contains 24 questions.



- प्रश्न-पत्र में दाहिने हाथ की ओर दिये गये कोड नम्बर तथा सेट को छात्र उत्तर-पुस्तिका के मुख्य-पृष्ठ पर लिखें।

The Code No. and Set on the right side of the question paper should be written by the candidate on the front page of the answer-book.

- कृपया प्रश्न का उत्तर लिखना शुरू करने से पहले, प्रश्न का क्रमांक अवश्य लिखें।

Before beginning to answer a question, its Serial Number must be written.

- उत्तर-पुस्तिका के बीच में खाली पन्ना/पन्ने न छोड़ें।

Don't leave blank page/pages in your answer-book.

- उत्तर-पुस्तिका के अतिरिक्त कोई अन्य शीट नहीं मिलेगी। अतः आवश्यकतानुसार ही लिखें और लिखा उत्तर न काटें।

Except answer-book, no extra sheet will be given. Write to the point and do not strike the written answer.

213/(Set : D)

P. T. O.

(2)

213/(Set : D)

- परीक्षार्थी अपना रोल नं० प्रश्न-पत्र पर अवश्य लिखें। रोल नं० के अतिरिक्त प्रश्न-पत्र पर अन्य कुछ भी न लिखें और वैकल्पिक प्रश्नों के उत्तरों पर किसी प्रकार का निशान न लगाएँ।

Candidates must write their Roll No. on the question paper. Except Roll No. do not write anything on question paper and don't make any mark on answers of objective type questions.

- कृपया प्रश्नों के उत्तर देने से पूर्व यह सुनिश्चित कर लें कि प्रश्न-पत्र पूर्ण व सही है, परीक्षा के उपरान्त इस सम्बन्ध में कोई भी दावा स्वीकार नहीं किया जायेगा।

*Before answering the questions, ensure that you have been supplied the correct and complete question paper, **no claim in this regard, will be entertained after examination.***

सामान्य निर्देश :

- (i) सभी प्रश्न अनिवार्य हैं।



- (ii) प्रत्येक प्रश्न के अंक उसके सामने दर्शाए गए हैं।
- (iii) प्रश्नों के उत्तर उनके अंकानुसार दें।
- (iv) प्रश्न संख्या 24 विश्व के मानचित्र को भरने से संबंधित है।
- (v) विश्व के मानचित्र को भरकर अपनी उत्तर-पुस्तिका के बीच मजबूती से बाँधिए।
- (vi) मानचित्र पर अपनी उत्तर-पुस्तिका का क्रमांक अवश्य लिखें।

General Instructions :

- (i) **All questions are compulsory.**
- (ii) Marks for each question are indicated against it.
- (iii) Answer the questions according to their marks.

213/(Set : D)

- (iv) Question No. 24 is related to filling the outline map of the **World**.
- (v) After filling the map of the World it should be securely tied in the middle of the answer-book.
- (vi) You **must** write your Answer-book Serial No. on the map.

1. ग्रिफिथ टेलर ने निम्नलिखित में से किन विचारों/अवधारणाओं को लोकप्रिय बनाया ? 1

- (A) संभावनावाद (B) नियतत्ववाद
(C) नव-नियतत्ववाद (D) क्षेत्रीय भेदभाव

Griffith Taylor popularized which of the following ideas/concepts ?

- (A) Possibilism (B) Determinism
(C) Neo-determinism (D) Areal Differentiation



2. निम्नलिखित में से किस क्षेत्र में वाणिज्यिक व्यापक अनाज की खेती **नहीं** की जाती ? 1

- (A) अमेरिकी कनाडाई प्रेरीज़ (B) यूरोपीय स्टेपीज़
(C) अर्जेन्टीना के पम्पास (D) अमेज़न बेसिन

In which of the following regions is extensive commercial grain cultivation **not** practised ?

- (A) American Canadian Praries (B) European Steppes
(C) Pampas of Argentina (D) Amazon Basin

3. निम्नलिखित में से कौन-सा व्यवसाय चतुर्थक क्षेत्र से सम्बन्धित है ? 1

- (A) विनिर्माण कम्प्यूटर (B) कागज और कच्ची लुगदी उत्पाद
(C) विश्वविद्यालय शिक्षण (D) किताबें छापना

Which one of the following activities is related to quaternary sector ?

- (A) Manufacturing computers
- (B) Paper and raw pulp production
- (C) University teaching
- (D) Printing books

4. सबसे अधिक घनत्व वाला रेलवे नेटवर्क किस देश में है ?

1

- (A) ब्राज़ील
- (B) यू एस ए
- (C) कनाडा
- (D) रूस

Which country has the highest density of railway network ?

- (A) Brazil
- (B) USA
- (C) Canada
- (D) Russia



5. भारत में पहली जनसंख्या जनगणना कब आयोजित हुई थी ?

1

- (A) 1901 में
- (B) 1872 में
- (C) 1857 में
- (D) 1906 में

The first Population Census in India was conducted in :


- (A) 1901
- (B) 1872
- (C) 1857
- (D) 1906

6. जनसंख्या भूगोल से आपका क्या अभिप्राय है ?

1

What do you mean by Population Geography ?

7. विश्व में कार्यरत जनसंख्या का आयु वर्ग क्या है ? 1
What is the age group of the working population in the World ?
8. लिंगानुपात कब प्रतिकूल होता है ? 1
When is sex-ratio unfavourable ?
9. 2001 की जनगणना के अनुसार, भारत में जनसंख्या का औसत घनत्व कितना था ? 1
What is the average density of population in India as per 2001 Census ?
10. अशोधित मृत्यु दर से आप क्या समझते हैं ? 1
What do you mean by crude death rate ?
11. मानव विकास के प्रमुख क्षेत्रों की व्याख्या कीजिए। 2
Explain the key areas of human development.
12. मानव बस्ती का क्या अर्थ है ? 2
What is a Settlement ?
13. भारत में जनसंख्या का घनत्व प्रत्येक क्रमिक जनगणना में क्यों बढ़ रहा है ? 2
Why the density of population in India is increasing in every successive census ?
14. प्रदूषण की पहचान के लिए उपयोग किए जाने वाले मानदंडों का उल्लेख कीजिए। 2
Mention the criteria used for indentifying pollution.
15. जनसंख्या के वितरण को प्रभावित करने वाले किन्हीं **तीन** आर्थिक कारकों की उदाहरण सहित व्याख्या कीजिए। 3
Explain with example of any **three** economical factors which influence the distribution of population.

16. विकासशील देशों में शहरी बस्तियों से जुड़ी समस्याओं की विवेचना कीजिए। 3
Discuss the problems associated with the urban settlements in developing countries.
17. भारत में प्रवास से जुड़े किन्हीं **पाँच** आर्थिक परिणामों की व्याख्या कीजिए। 3
Explain any **five** economic consequences associated with migration in India.
18. वायु प्रदूषण के किन्हीं **तीन** स्रोतों की व्याख्या कीजिए। 3
Explain any **three** sources of air pollution.
19. अन्ध-महासागर मार्ग का वर्णन कीजिए। 5
Describe the Atlantic Ocean Routes.
20. 'रेखीय' और 'वृत्ताकार' बस्तियों में अन्तर स्पष्ट कीजिए। 5
Distinguish between 'Linear' and 'Circular' settlements.
- 
21. कपास की खेती के विकास के लिए अनुकूल भौगोलिक परिस्थितियों का संक्षिप्त विवरण दीजिए। भारत में कपास के उत्पादन तथा वितरण का वर्णन कीजिए। 5
Give a brief account of favourable geographical conditions for the growth of Cotton cultivation. Describe the production and distribution of Cotton in India.
22. भारत के **पाँच** प्रमुख औद्योगिक संकुल कौन-से हैं ? हुगली औद्योगिक क्षेत्र में मदद करने वाले किन्हीं **तीन** कारकों का वर्णन कीजिए। 5
Name **five** major industrial clusters of India. Analyse any **three** locational factors which helped in the development of Hooghly industrial region.
23. विश्व में सड़क परिवहन के गुण और दोषों की व्याख्या कीजिए। 5
Explain the merits and demerits of Road Transport in the World.

(7)

213/(Set : D)

24. दिए गए विश्व के रेखा-मानचित्र पर निम्नलिखित को अंकित कीजिए :

1 × 5 = 5

Show the following on the given outline map of the **World** :

(i) शिकागो

Chicago

(ii) केपटाउन

Cape Town

(iii) भद्रावती

Bhadravati

(iv) झरिया

Jharia

(v) चेन्नई

Chennai



213/(Set : D)